


선택과목

세계사

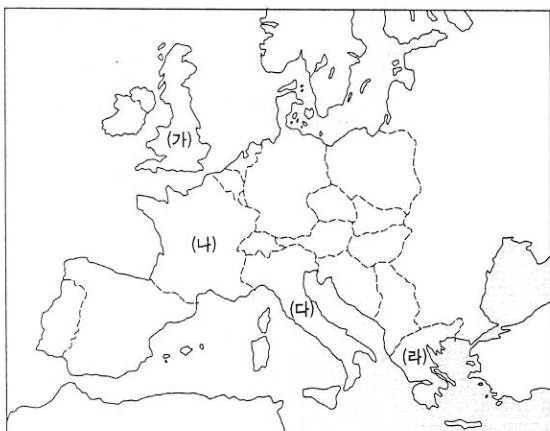
71. 다음 유적과 유물이 만들어졌던 시기의 사회상을 옳게 설명한 것은?



- ① 왕이 정치와 종교를 주관하였다.
- ② 종법의 원리에 따라 영토를 분봉하였다.
- ③ 농경이 시작되고 씨족 공동체를 이루고 살았다.
- ④ 대토지를 소유한 세력이 중앙 관직도 독점하였다.
- ⑤ 철제 농기구의 사용으로 농업 생산성이 증대되었다.

72. 경규는 여름 방학을 이용하여 배낭 여행을 가려고 다음 유적에 관한 자료를 공부하였다. 경규가 가려는 나라들로 옳게 묶인 것은?

- 파르테논 신전, 올림푸스 신전
- 콜로세움, 판테온 신전, 피사의 사탑



- ① (가), (나)      ② (가), (다)      ③ (나), (다)
- ④ (나), (라)      ⑤ (다), (라)

73. 다음을 시행한 국가의 정치 사상을 적절하게 표현한 것은?

- 봉건 제도 대신 중앙 집권적인 군현제를 실시하였다.
- 흉노족의 침략을 방어하기 위해 만리장성을 축조하였다.
- 전국을 도로를 정비하고 화폐·도량형·문자를 통일하였다.

- ① 차별 없는 인류애를 발휘하자.
- ② 상벌에 의해 엄격하게 질서를 유지하자.
- ③ 인위적인 도덕을 배제하고 자연으로 돌아가자.
- ④ 인간의 본성은 악하므로 교육에 의해 순화하자.
- ⑤ 패도 정치 대신에 덕치와 왕도 정치를 시행하자.

74. 다음은 로마 공화정 말기 어떤 정치가의 연설문이다. 이와 관련하여 이 정치가가 제시하였을 개혁안의 목적으로 가장 적절한 것은?

이탈리아의 들에서 풀을 뜯는 야수들조차도 은거할 동굴과 보금자리를 가지고 있습니다. 그런데 이탈리아를 위해 싸우고, 이탈리아를 위해서 죽어가는 사람들은 공기와 햇빛 이외에 아무것도 주어지지 않아, 그들의 가족들은 집도 없이 처자들과 헤매고 있습니다. …(중략)… 그들은 다른 사람의 부귀와 사치를 위해서 싸우고 죽어가는 것입니다. 그들이 세계의 정복자라 불린다 해도 그들은 한 줌의 흙조차 갖고 있지 못합니다.

- ① 시민 생활의 안정
- ② 시민의 참정권 보장
- ③ 직접 민주 정치의 실현
- ④ 속주와의 통상 교류 확대
- ⑤ 용병 고용을 통한 국방 강화

75. 다음은 어떤 종교의 성지 순례 행사이다. 이 종교와 관련된 설명을 <보기>에서 모두 고른 것은? [2점]

—<보기>—

- ㄱ. 시바 신과 비슈누 신을 신앙의 대상으로 하는 다신교이다.
- ㄴ. 경전에 대한 번역의 금지로 아랍어가 널리 보급되어 갔다.
- ㄷ. 돔과 첨탑을 특징으로 하는 모스크 양식의 건축물이 만들어졌다.
- ㄹ. 헬레니즘 문화의 영향을 받아 간다라 지역에서 독특한 미술이 발달하였다.

- ① ㄱ, ㄴ      ② ㄱ, ㄷ      ③ ㄴ, ㄷ      ④ ㄴ, ㄹ      ⑤ ㄷ, ㄹ

# 22 인문계 사회탐구 · 과학탐구 영역

76. 다음은 중국 남북조 시대의 북위와 수·당의 균전제를 비교한 것이다. 이에 대한 옳은 설명을 <보기>에서 모두 고른 것은?

[2점]

구분	대상	경작 토지	뽕나무 밭
북위	정남(15~69세)	40무	20무
	처	20무	
	노예	40무	20무
	소	30무	(영업전 <sup>주1)</sup> )
수	정남(18~59세)	80무	20무(영업전)
	처	경작지 40무(양제 때 폐지)	
당	정남(21~59세)	구분전 <sup>주2)</sup> 80무, 영업전 20무	
	중남(16~20세)	구분전 80무, 영업전 20무	

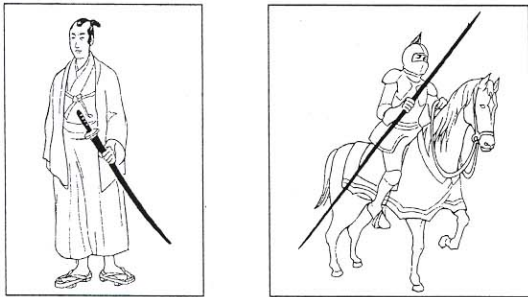
주1) 영업전 : 세습 가능한 토지    주2) 구분전 : 세습 불가능한 토지

<보기>

- ㄱ. 토지 지급 대상의 범위에는 변동이 없었다.
- ㄴ. 이 제도는 농민 생활의 안정을 목적으로 하였다.
- ㄷ. 정남의 대상이 당으로 갈수록 점차 확대되었다.
- ㄹ. 당의 부병제와 조·용·조는 이 제도에 근거하였다.

- ① ㄱ, ㄴ                      ② ㄱ, ㄷ                      ③ ㄴ, ㄷ
- ④ ㄴ, ㄹ                      ⑤ ㄷ, ㄹ

77. 그림은 일본과 서유럽의 역사에서 어느 시기에 나타난 지배층의 모습이다. 이들이 지배층이었을 당시 두 지역의 공통적인 사회 모습은?



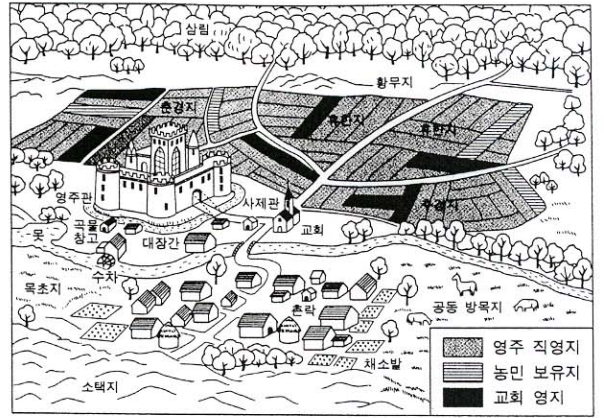
- ① 유일신을 숭배하는 사회였다.
- ② 지방 분권적인 경향이 강하였다.
- ③ 농업보다는 상공업이 발달하였다.
- ④ 평민층의 능력에 의한 신분 상승이 활발하였다.
- ⑤ 외국과의 교역이 활발하여 국제적인 문화가 발달하였다.

78. 다음은 중국 강남 지역의 개발과 관련된 내용이다. 이에 대한 설명으로 옳은 것은? [2점]

(가) 삼국 시대 이후 화북에서 강남으로 많은 인구가 이주하였으며, 강남 지역에 여러 왕조가 나타났다.  
 (나) 수의 양제는 황하와 양쯔 강을 잇는 대운하를 개통하였다.  
 (다) 송 대에는 품종 개량, 2모작 실시 등으로 강남의 농업 생산력이 비약적으로 발달하였다.

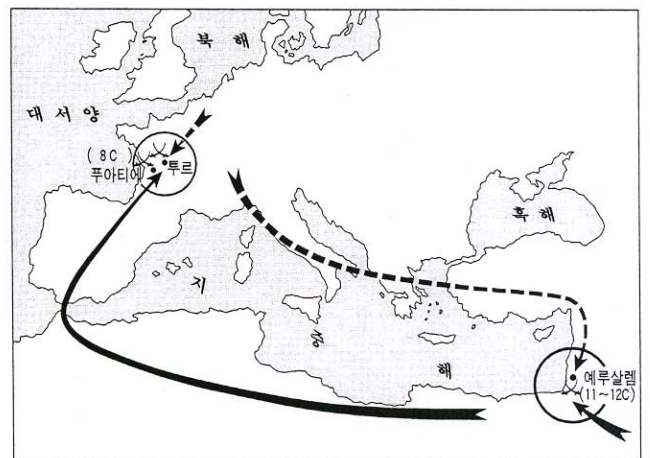
- ① (가)는 여진족의 침입으로 인한 결과이다.
- ② (가)로 인해 강남 지역에 강건한 기풍의 문화가 발달하였다.
- ③ (나)로 인해 수의 국가 체제가 더욱 강화되었다.
- ④ (나)로 인해 강남의 물산이 화북으로 운송되었다.
- ⑤ (다)로 인해 상품 화폐 경제가 위축되었다.

79. 다음은 서양 중세 장원의 가상도이다. 이 그림을 토대로 탐구 과제를 설정할 때 적절하지 않은 것은? [2점]



- ① 장원에서 교회의 역할은 무엇이였을까?
- ② 농민의 토지 경작 방식은 어떠하였을까?
- ③ 농민은 부역과 공납을 누구에게 납부하였을까?
- ④ 장원에서 농민이 보유한 토지는 어느 정도였을까?
- ⑤ 영주와 농민이 체결한 쌍무 계약의 내용은 무엇이였을까?

80. 지도에 표시된 서로 다른 두 세력 간의 대립에서 나타난 공통적인 성격으로 알맞은 것은? [2점]



- ① 동방 무역권 다툼
- ② 노르만인의 세력 확장
- ③ 그리스도 교의 포교 활동
- ④ 지중해 해상 무역권 다툼
- ⑤ 그리스도 교와 이슬람 교의 충돌

\* 확인 사항

○ 답안지의 해당란에 필요한 내용을 정확히 기입(표기)했는지 확인한 후 답안지를 제출하십시오.